

Grassen herkennen

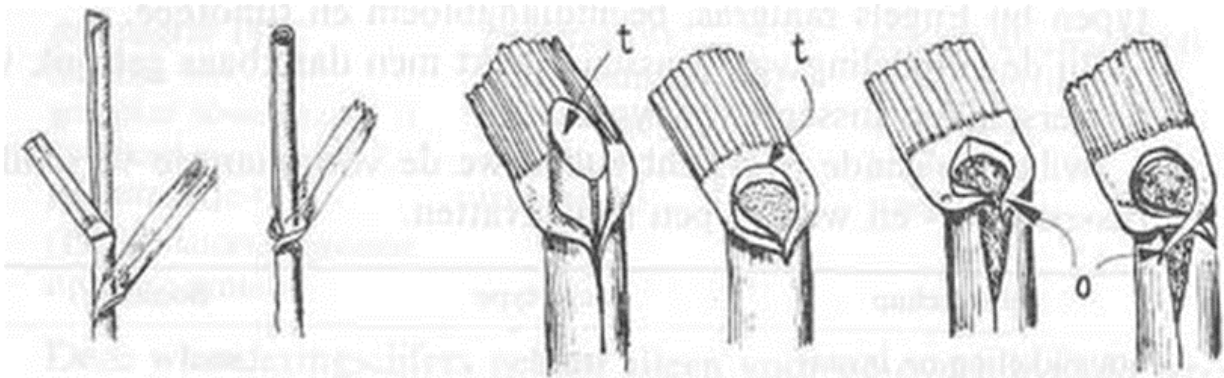


Fig. 7. Platte en ronde spruit


Fig. 8. Tongetjes

Fig. 9. Oortjes

1. Wat noemen we een spruit bij gras.
2. Waar zit het oudste blad en waar het jongste blad. Geef dit aan in de onderstaande afbeelding.




3. Teken hieronder hoe je een platte spruit kunt herkennen.



4. Teken hieronder hoe je een ronde spruit kunt herkennen.



5. Benoem de onderdelen 1, 2 en 3.




1 =

2 =

3 =

6. Wat is onderdeel 1 en wat is onderdeel 2



1 =

2 =

7. Het onderstaande tongetje is
en het blad is



8. De onderstaande gras plant is



Engels Raaigras is onder meer te herkennen aan de voet.



9. De onderstaande voet is gestreept. Dit gras noemen we



10. Het blad van onderstaande gras is gedraaid (kurkentrekker). Dit gras heet



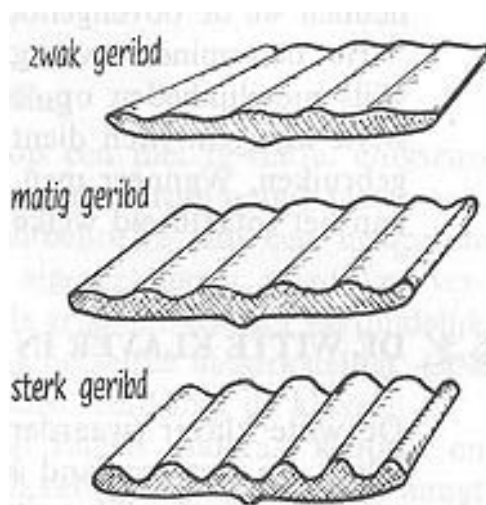
11. Hoe heet het onderstaande gras. Dit gras bloeit het hele jaar door. Je kunt het ook herkennen aan de bobbels op het blad.



12. Op het onderstaande afbeelding is het blad van een kroppaar afgebeeld. Je kunt het onder meer herkennen aan de aan de onderzijde van het blad.



13. De nerven die over het blad lopen is bij het ene gras beter te zien en te voelen dan bij het andere gras. Zie afbeelding.



14. Benoem de onderstaande bloeiwijzen.

